

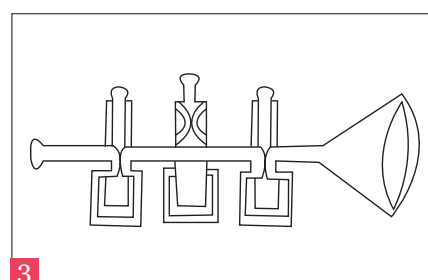
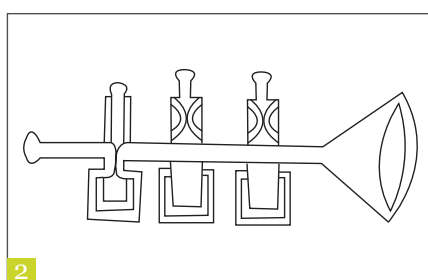
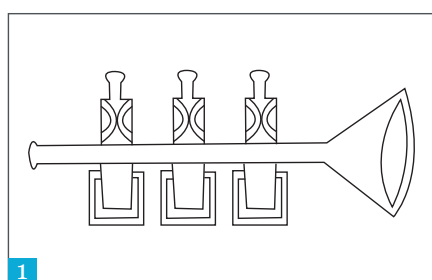
Je ziet drie trompetten.

Trompet 1 heeft geen ventiel ingedrukt.

Trompet 2 heeft één ventiel ingedrukt.

Trompet 3 heeft twee ventielen ingedrukt.

Kleur de luchtstroom door de trompetten.



Hoe langer de buis, hoe lager de klank. Omcirkel het goede antwoord:

- Trompet 1 / trompet 2 / trompet 3 klinkt het laagst.
- Trompet 1 / trompet 2 / trompet 3 klinkt het hoogst.

Maak een snelle tekening bij de muziek.

